








Russland | Wirtschaft

Arbeite mit der Karte **Russland Wirtschaft** im SchulAtlas auf Seite 92/93.

- ① Suche in der Legende folgende Kartenzeichen und schreibe auf, was sie bedeuten.

Dieses Kartenzeichen	bedeutet ...
	
	
	
	
	
	
	

- ② Welche Wirtschaftselemente sind für die folgenden Städte bedeutend? Kreuze an.

Stadt	Dienstleistungsstandort	Industrie	Chemie	Stahlveredlung	Raffinerie
St. Petersburg					
Moskau					
Jekaterinburg					
Nowosibirsk					
Irkutsk					

- ③ Nimm dir deine Buntstifte zur Hand und zeichne die Signaturen (Kartenzeichen) für folgende Bodenbedeckungen ein:

Bodenbedeckung	Zeichen
Feuchtgebiet	<input type="text"/>
Wald	<input type="text"/>
Ackerland	<input type="text"/>
Kraut- und Strauchvegetation	<input type="text"/>

- ④ Verwende die Karten **Russland Physische Karte** und **Russland Wirtschaft** und vervollständige die Übersicht.

Bodenbedeckung	Name	Suchfeld
Feuchtgebiet	Westsisibirisches Tiefland	
Gletscher, Dauerschneegebiet		F/G 2
	Moskau und Umgebung	D/E 4
	Nordsibirisches Tiefland	J/L 2