





## Eine Reise durch Europa

Arbeite mit der Karte **Europa Bilderkarte** im Schulatlas auf Seite 46/47 und mit der Karte **Europa Politische Karte** auf Seite 50/51.

❶ In welchen Ländern befinden sich folgende Sehenswürdigkeiten?

Landschaft/Sehenswürdigkeit	Staat
Athen - Akropolis	
Berlin - Brandenburger Tor	
Mostar - Stari most (alte Brücke)	
Istanbul - Hagia Sophia	
Wolgograd - Mutter Heimat	

❷ Betrachte die Bilder. Was wird darauf abgebildet? In welchen Ländern befinden sich die Sehenswürdigkeiten und Landschaften?

❸ Europa in Rekorde. Schreibe die richtigen Namen in die Spalte.

Rekord	Name	Staat
Bevölkerungsreichste Stadt		
Tiefster Punkt		
Größter See		
Höchster Wasserfall		
Längster Fluss		
Höchstes Gebäude		
Längstes Gebirge		