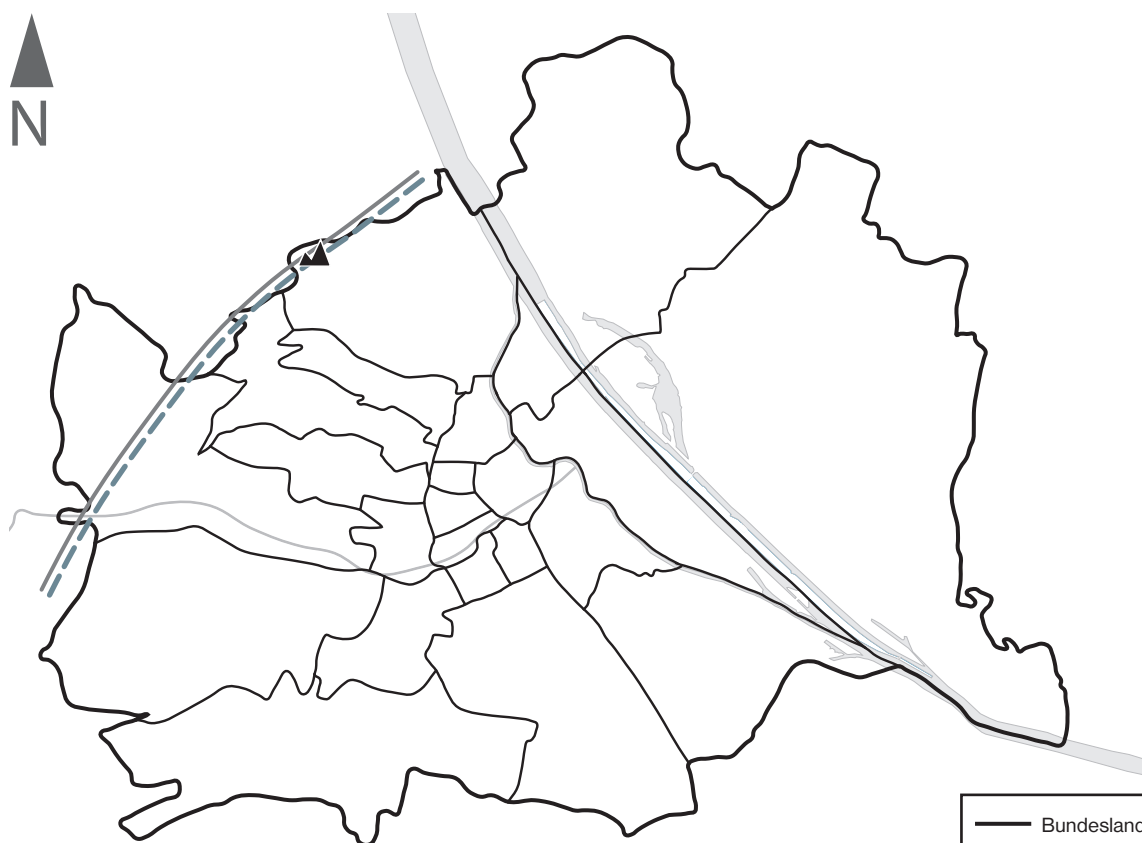

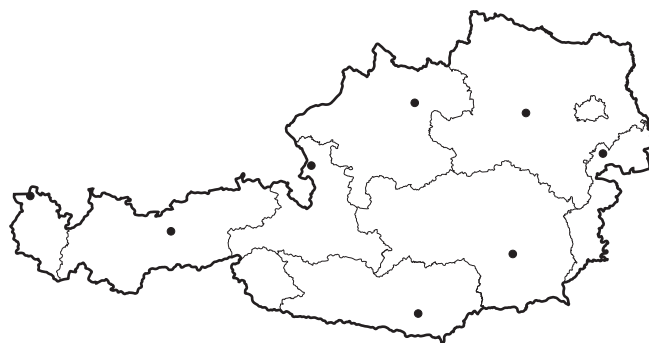


Bundesland: \_\_\_\_\_

Landeshauptstadt: \_\_\_\_\_

- ❶ Welches Bundesland ist auf der Karte dargestellt?  
Wie heißt die Landeshauptstadt? Ergänze in der Überschrift des Arbeitsblatts.
- ❷ Male das Bundesland in der Österreichkarte auf dem Arbeitsblatt farbig an.
- ❸ Beschrifte die Stumme Karte mithilfe der Karte Wien, Bezirke im Schulatlas auf Seite 34.
- ❹ Male das Wappen in den richtigen Farben an.  
Auf Seite 10 in deinem Schulatlas findest du eine Vorlage.



	Bundeslandsgrenze
	Bezirksgrenzen
	Gebirge und Landschaften
	höchster Berg
	Flüsse
	See

Maßstab 1:225 000

0 2 4 6 km