

Welt | Wirtschaft

Verwende für diese Aufgaben die Karte **Welt Wirtschaft** im Schulatlas auf Seite 142/143.

- ❶ Welche sind die größten Containerhäfen in Europa? Bringe die Buchstaben in die richtige Reihenfolge und schreibe die Namen auf.

PATWENERN

--	--	--	--	--	--	--	--	--	--

TRTDERAOM

--	--	--	--	--	--	--	--	--	--

GHUMABR

--	--	--	--	--	--	--	--

- ❷ Nenne 3 Staaten in denen der Warenexport sehr hoch ist. Bringe die Buchstaben in die richtige Reihenfolge und schreibe die Namen auf.

ASU

--	--	--

NCIAH

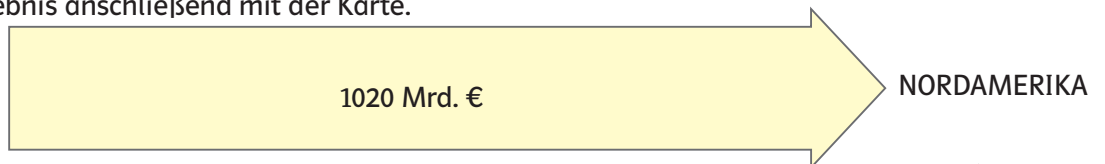
--	--	--	--	--

DACETLSHNUD


--	--	--	--	--	--	--	--	--	--

- ❸ Erstelle eine Rangliste nach den größten Handelsströmen. Vergleiche dein Ergebnis anschließend mit der Karte.

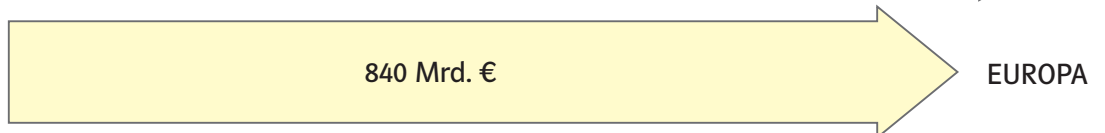
ASIEN




EUROPA



ASIEN



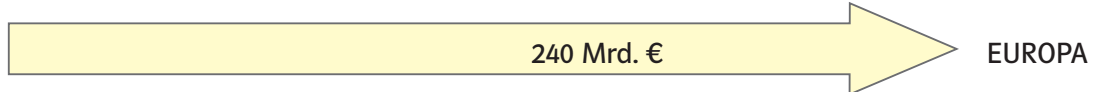
ASIEN



AFRIKA



GUS



- ❹ Erstelle eine Rangliste nach Handelsvolumen innerhalb der Wirtschaftsregionen. Verwende die Karte.

AUSTRALIEN & NEUSEELAND

ASIEN

EUROPA

SÜD- und ZENTRALAMERIKA & AFRIKA

NORDAMERIKA

GEMEINSCHAFT UNABHÄNGIGER STAATEN (GUS)