

## Entdecke Afrika

Arbeite mit der Karte **Afrika Bilderkarte** im Schulatlas auf Seite 88/89 und **Afrika Physische Karte** im Schulatlas auf Seite 90/91

❶ Afrika in Rekorden.

1. Wie heißt der größte Staat in Afrika?

---

2. Für welche Sehenswürdigkeit ist Algier, eine Stadt in Algerien, bekannt?

---

3. Wie heißt der längste Fluss Afrikas? Wie lange ist er?

---





4. Wie heißt das längste Gebirge in Afrika? Wie lange ist es?

---

5. Durch welche Staaten verläuft der Atlas (Hoher Atlas, AntiAtlas, Tellatlas, Saharatlas)?

---

❷ Wie heißen folgende Landschaften beziehungsweise Sehenswürdigkeiten? Schreibe die Namen unter die Bilder.

❸ Vervollständige die Sätze mit den jeweils passenden Namen.

Granitformationen – Felsentempel – Serengeti – antike Stadt – Moschee

1. Leptis Magna ist eine \_\_\_\_\_ in Libyen.

2. Abu Simbel ist bekannt für seine \_\_\_\_\_, die Ramses II errichten ließ.

3. In Djenne befindet sich eine aus Lehm gebaute \_\_\_\_\_.

4. La Digue ist eine kleine Insel der Seychellen. Hier findest du wunderschöne \_\_\_\_\_.

5. Zu den größten Nationalparks auf der ganzen Welt zählt der \_\_\_\_\_-Nationalpark.