





Entdecke Asien

Arbeite mit der Karte **Asien Bilderkarte** im Schulatlas auf Seite 78 und mit der Karte **Asien Politische Karte** auf Seite 80.

❶ In welchen Ländern befinden sich folgende Sehenswürdigkeiten und Landschaften.

Landschaft/Sehenswürdigkeit	Staat
Bosporus	
Baikalsee	
Chinesische Mauer	
Mount Everest	
Angkor Wat	
Fudschijama-Eisenbahn	
Mekka-Kaaba	

❷ Betrachte die Bilder. Was wird darauf abgebildet? In welchen Ländern befinden sich die Sehenswürdigkeiten und Landschaften?

❸ Asien in Rekorde. Schreibe die richtigen Namen in die Spalte. In welchem Staat befinden sich die Rekorde?

Rekord	Name	Staat
Bevölkerungsreichste Stadt		
Tiefster Punkt		
Größter See		
Höchster Wasserfall		
Längster Fluss		
Höchstes Gebäude		
Längstes Gebirge		