





Eine Reise durch Europa

Arbeite mit der Karte **Europa Bilderkarte** im Schulatlas auf Seite 38/39 und mit der Karte **Europa Politische Karte** auf Seite 42/43.

❶ In welchen Ländern befinden sich folgende Sehenswürdigkeiten und Landschaften.

Landschaft/Sehenswürdigkeit	Staat
St. Petersburg - Auferstehungskirche	
Berlin - Brandenburger Tor	
Mostar - Stari most (alte Brücke)	
Istanbul - Hagia Sophia	
Wolgograd - Mutter Heimat	

❷ Betrachte die Bilder. Was wird darauf abgebildet? In welchen Ländern befinden sich die Sehenswürdigkeiten und Landschaften?

❸ Europa in Rekorde. Schreibe die richtigen Namen in die Spalte. In welchem Staat befinden sich die Rekorde?

Rekord	Name	Staat
Bevölkerungsreichste Stadt		
Tiefster Punkt		
Größter See		
Höchster Wasserfall		
Längster Fluss		
Höchstes Gebäude		
Längstes Gebirge		