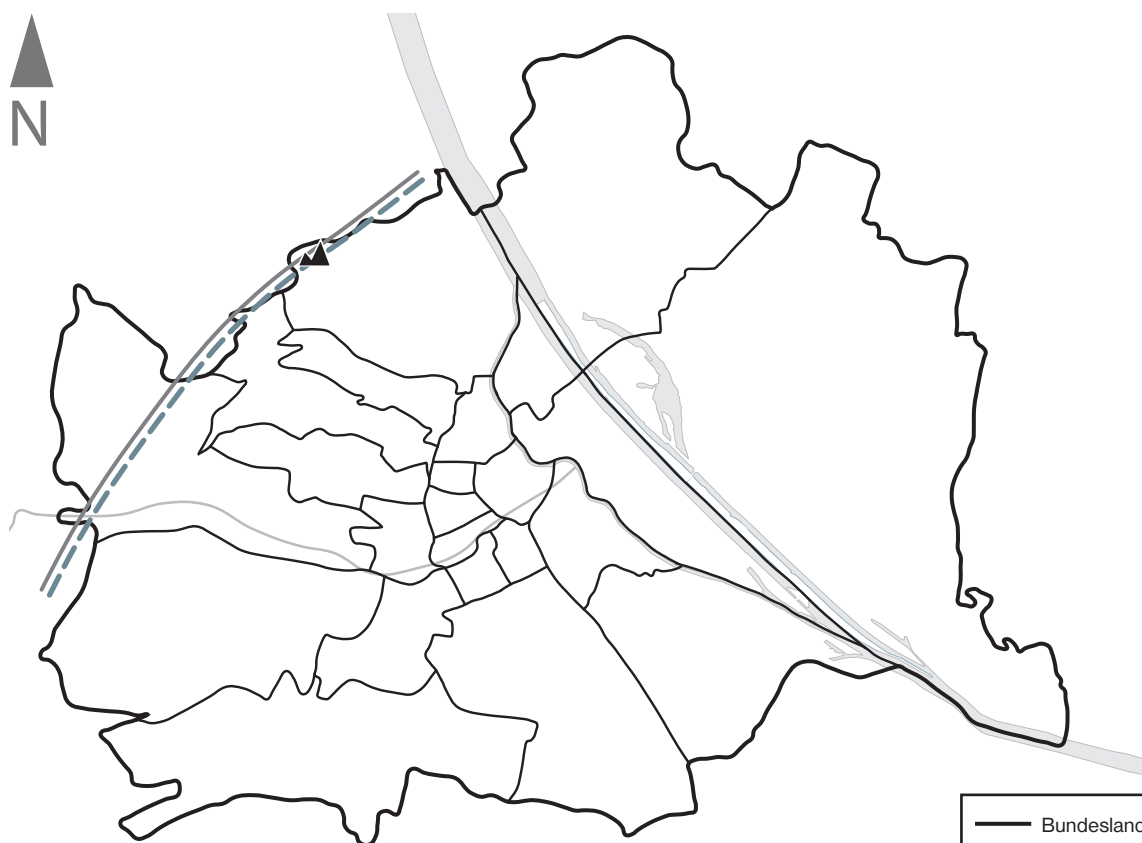

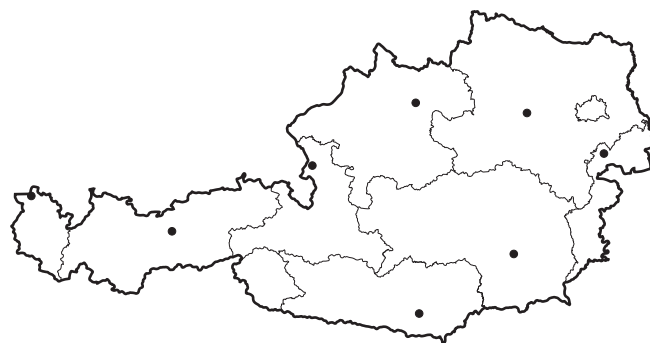


Bundesland: _____

Landeshauptstadt: _____

- ❶ Welches Bundesland ist auf der Karte dargestellt?
Wie heißt die Landeshauptstadt? Ergänze in der
Überschrift des Arbeitsblatts.
- ❷ Male das Bundesland in der Österreichkarte auf
dem Arbeitsblatt farbig an.
- ❸ Beschrifte die Stumme Karte mithilfe der
Karte Wien, Bezirke im Schulatlas auf Seite 26.
- ❹ Male das Wappen in den richtigen Farben an.
Auf Seite 7 in deinem Schulatlas findest du eine
Vorlage.



	Bundeslandsgrenze
	Bezirksgrenzen
	Gebirge und Landschaften
	höchster Berg
	Flüsse
	See
Maßstab 1:225 000	