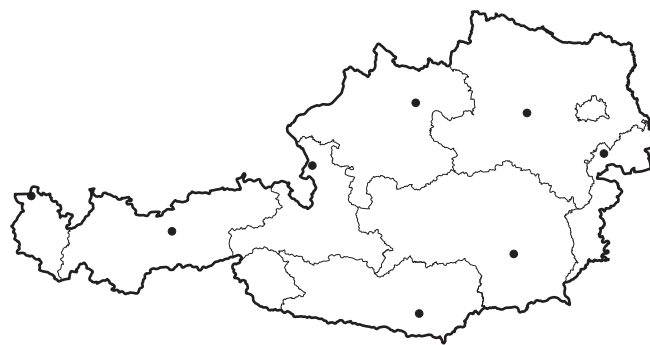
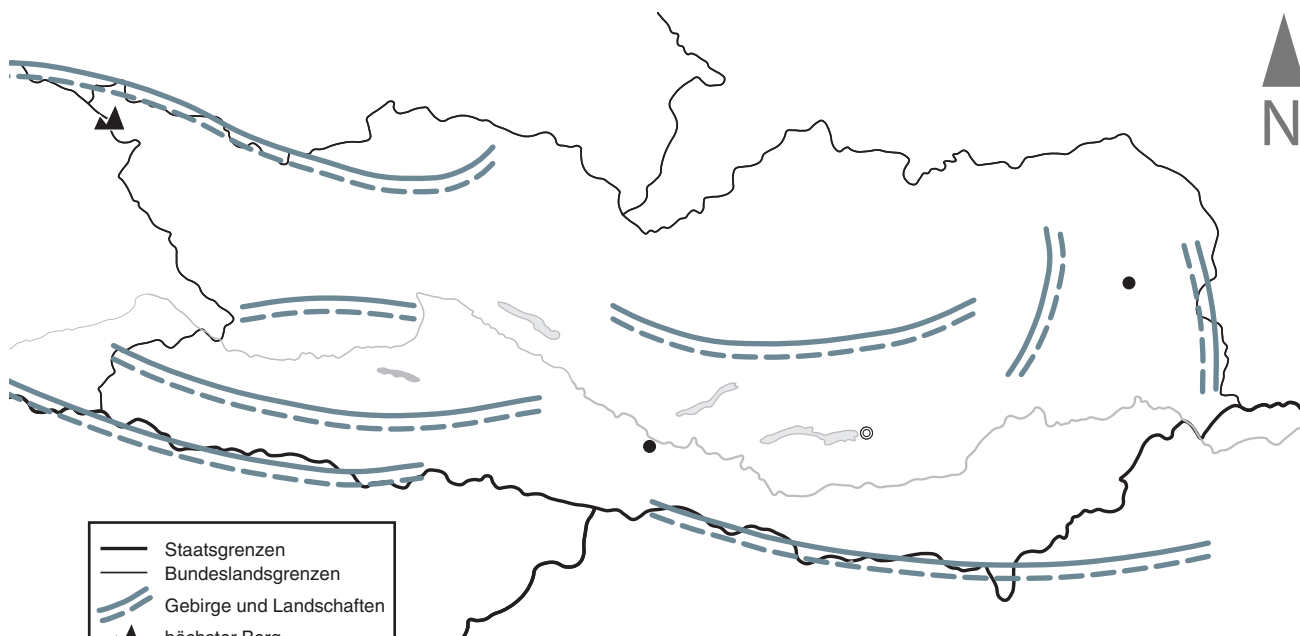



Bundesland: _____

Landeshauptstadt: _____



- 1 Welches Bundesland ist auf der Karte dargestellt?
Wie heißt die Landeshauptstadt? Ergänze in der Überschrift des Arbeitsblatts.
- 2 Male das Bundesland in der Österreichkarte auf dem Arbeitsblatt farbig an.
- 3 Beschrifte die Stumme Karte mithilfe der Physischen Karte Kärnten im Schulatlas auf Seite 20/21.
- 4 Male das Wappen in den richtigen Farben an.
Auf Seite 7 in deinem Schulatlas findest du eine Vorlage.



	Staatsgrenzen
	Bundeslandsgrenzen
	Gebirge und Landschaften
	höchster Berg
	Flüsse
	Seen
	Landeshauptstadt
	weitere Städte

Maßstab 1:1 200 000

0 12 24 36 km