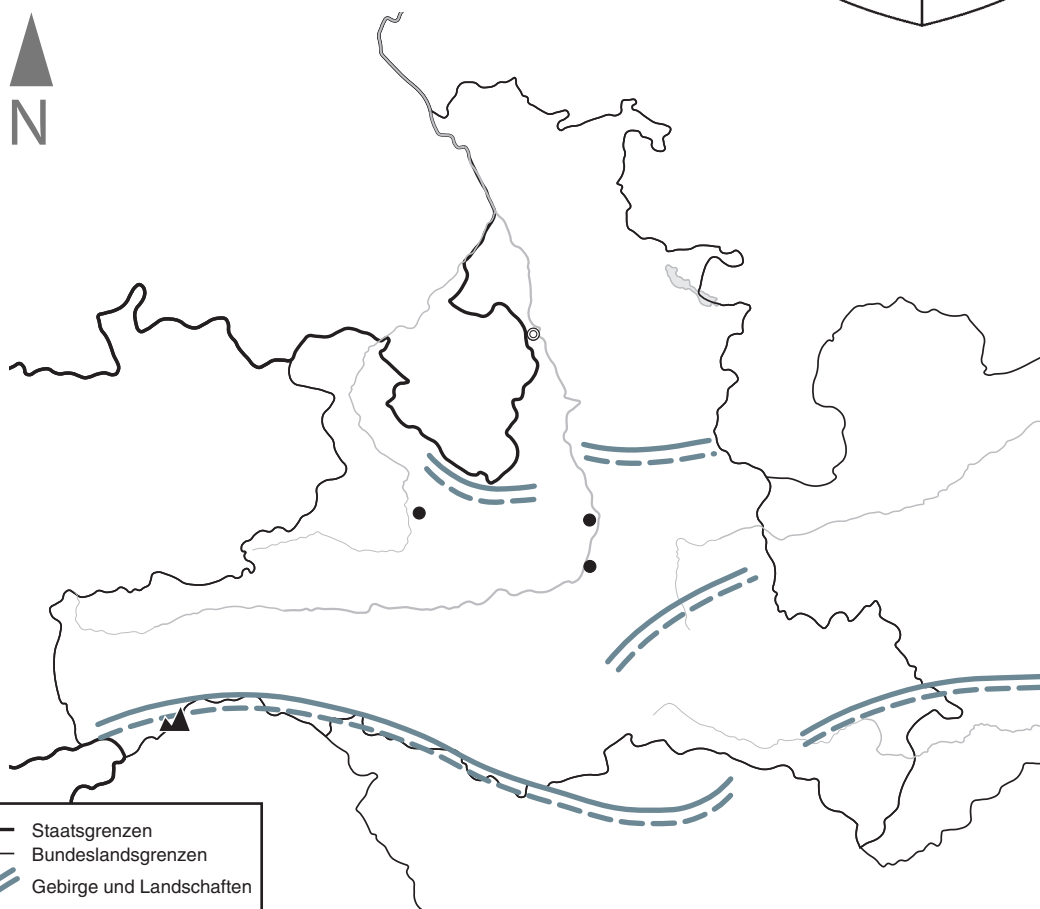

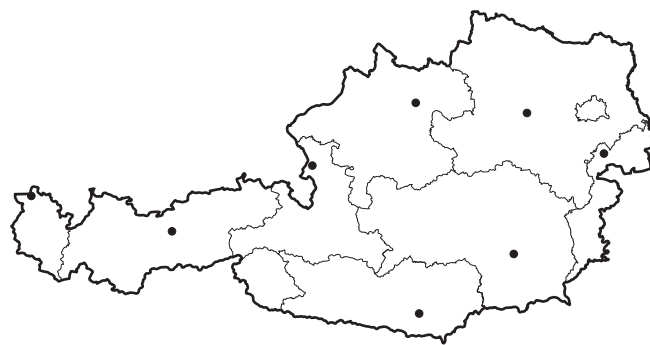


Bundesland: \_\_\_\_\_

Landeshauptstadt: \_\_\_\_\_

- 1 Welches Bundesland ist auf der Karte dargestellt?  
Wie heißt die Landeshauptstadt? Ergänze in der  
Überschrift des Arbeitsblatts.
- 2 Male das Bundesland in der Österreichkarte auf  
dem Arbeitsblatt farbig an.
- 3 Beschrifte die Stumme Karte mithilfe der  
Physischen Karte Salzburg im Schulatlas  
auf Seite 18/19.
- 4 Male das Wappen in den richtigen Farben an.  
Auf Seite 7 in deinem Schulatlas findest du eine  
Vorlage.



	Staatsgrenzen
	Bundeslandsgrenzen
	Gebirge und Landschaften
	höchster Berg
	Flüsse
	Seen
	Landeshauptstadt
	weitere Städte

Maßstab 1:1 200 000

0 12 24 36 km