

Welt | Tektonik und Naturgefahren

Verwende für diese Aufgaben die Karte **Welt Tektonik und Naturgefahren** im Schulatlas auf Seite 122/123.

- ❶ Bei den Wirbelstürmen ist einiges durcheinander geraten. Bringe die Buchstaben in die richtige Reihenfolge.

HRUERIAKN

--	--	--	--	--	--	--	--	--	--

OCADRNSZOO

--	--	--	--	--	--	--	--	--	--	--	--

UTERIAIUAOORMKN

--	--	--	--	--	--	--	--	--	--	--	--	--	--	--

SMMENUÜMOSTR

--	--	--	--	--	--	--	--	--	--	--	--	--

BYEEONLNZAGKNEL

--	--	--	--	--	--	--	--	--	--	--	--	--	--	--

FTINAEU

--	--	--	--	--	--	--









OSÜREEKSDANE

--	--	--	--	--	--	--	--	--	--	--

LWIYL- SWIYL

--	--	--	--	--	--	--	--	--	--	--

- ❷ Welche Naturgefahren kennst du? Suche in den Legenden folgende Kartenzeichen und schreibe ihre Bedeutung auf.

Dieses Kartenzeichen	bedeutet ...
	
	
	
	
	
	
	
	

- ❸ Beantworte folgende Fragen zur Plattentektonik (Bewegung der Platten).

1. Die Eurasische Platte und die Afrikanische Platte im Mittelmeer:

- bewegen sich auseinander
- überschieben sich
- reiben aneinander

2. Die Afrikanische und die Südamerikanische Platte:

- bewegen sich auseinander
- überschieben sich
- reiben aneinander