








Eine Reise durch Ozeanien

Verwende die Karte **Australien, Ozeanien Bilderkarte** im Schulatlas auf Seite 110.

- ❶ Füge die fehlenden Informationen hinzu und trage das Lösungswort ein.
Beschrifte die Bilder auf der rechte Seite mit den jeweils passenden Nummern.

<p>1. Der einheimische Name für Ayers Rock lautet:</p> <p>_____</p> <p style="text-align: center;">4</p>	
<p>2. Das größte Korallenriff der Erde heißt:</p> <p>_____</p> <p style="text-align: center;">9</p>	
<p>3. Das weltberühmte Opernhaus steht in:</p> <p>_____</p> <p style="text-align: center;">10</p>	
<p>4. Der Sitz des Parlamentes ist in:</p> <p>_____</p> <p style="text-align: center;">2</p>	
<p>5. Der Nationalpark im Norden Australiens heißt:</p> <p>_____ Nationalpark</p> <p style="text-align: center;">1</p>	
<p>6. Im Palambai Village befindet sich das:</p> <p>_____</p> <p style="text-align: center;">6 7</p>	
<p>7. Der höchste Berg Ozeaniens ist der:</p> <p>_____</p> <p style="text-align: center;">5</p>	
<p>8. Im Port Campbell Nationalpark befinden sich die:</p> <p>_____</p> <p style="text-align: center;">3</p>	
<p>9. Die Steinsäulen findest du im:</p> <p>_____ Nationalpark</p> <p style="text-align: center;">8</p>	
<p>Lösungswort: _____</p> <p style="text-align: center;">1 2 3 4 5 6 7 8 9 10</p>	