


## Tourismus in Österreich 1

Arbeite mit der Karte **Österreich Herkunft der Gäste** im Schulatlas auf Seite 22.


- ❶ In welchen Bundesländern liegen politische Bezirke mit einem besonders hohen Anteil von ausländischen Gästen (=> mehr als 80 Prozent).

---


Arbeite mit der Karte **Österreich Tourismus und Naturschutz** im Schulatlas auf Seite 22/23.

- ❷ Vervollständige die Namen der Wintersportorte (Kartensymbol: ).

| Wintersportort            | Bundesland |
|---------------------------|------------|
| L _ _ _ _                 | Vorarlberg |
| ST. A _ _ _ _ _           | Tirol      |
| K _ _ _ _ _ Ü _ _ _ _     | Tirol      |
| Z _ _ _ _ AM _ _ _ _      | Salzburg   |
| O _ _ _ _ _ _ _ _ _ _     | Salzburg   |
| BAD K _ _ _ _ _ _ _ _ _ _ | Kärnten    |
| S _ _ _ _ _ _ _ _ _ _     | Steiermark |

- ❸ Wo in Österreich gibt es bedeutenden Sommertourismus (Kartensymbol: ). Ergänze in der Tabelle jeweils das Bundesland.

| Ort/Region mit Sommertourismus | Bundesland |
|--------------------------------|------------|
| Neusiedler See                 |            |
| Salzkammergut                  |            |
| Wörthersee                     |            |
| Ossiacher See                  |            |
| Heiligenblut                   |            |
| Achensee                       |            |

- ❹ Wellness- und Thermenurlaub wird in Österreich immer bedeutender. Entlang der großen Thermenlinie, die sich in Österreich von Wien über Niederösterreich und das Burgenland bis in den Südosten der Steiermark erstreckt, gibt es besonders viele Thermen (Kartensymbol: ). Schreibe je Bundesland zwei Orte auf.

Niederösterreich: \_\_\_\_\_

Burgenland: \_\_\_\_\_

Steiermark: \_\_\_\_\_

- ❺ Österreich hat sieben Nationalparks. Schreibe ihre Namen auf.

\_\_\_\_\_

\_\_\_\_\_