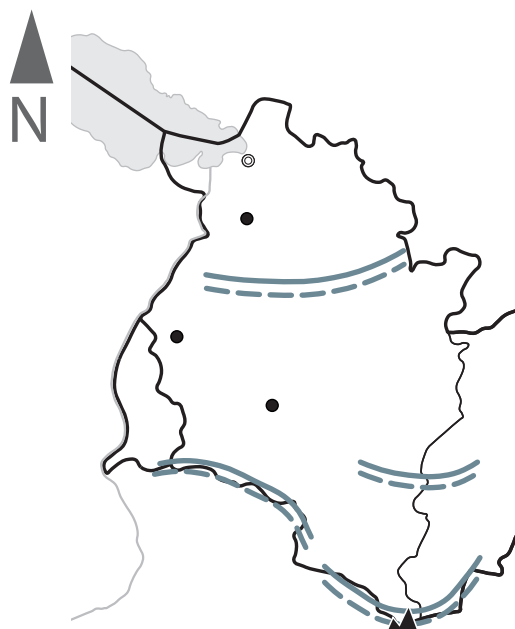
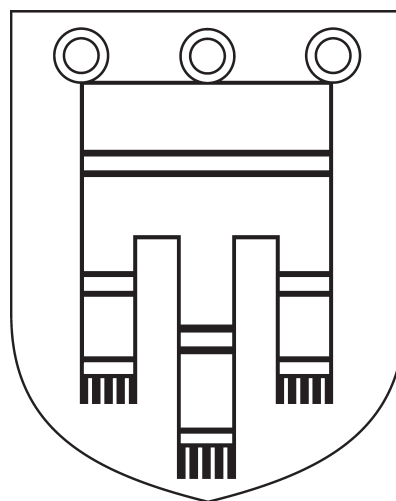
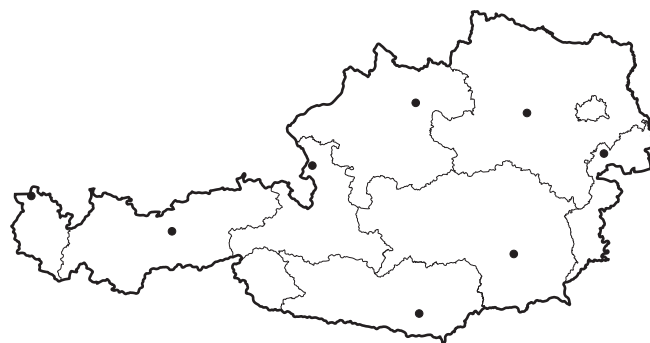


Bundesland: \_\_\_\_\_

Landeshauptstadt: \_\_\_\_\_

- 1 Welches Bundesland ist auf der Karte dargestellt?  
Wie heißt die Landeshauptstadt? Ergänze in der Überschrift des Arbeitsblatts.
- 2 Male das Bundesland in der Österreichkarte auf dem Arbeitsblatt farbig an.
- 3 Beschrifte die Stumme Karte mithilfe der Physischen Karte Tirol, Vorarlberg im Schulatlas auf Seite 16/17.
- 4 Male das Wappen in den richtigen Farben an.  
Auf Seite 5 in deinem Schulatlas findest du eine Vorlage.



	Staatsgrenzen
	Bundeslandsgrenzen
	Gebirge und Landschaften
	höchster Berg
	Flüsse
	Seen
	Landeshauptstadt
	weitere Städte

Maßstab 1:1 200 000

0 12 24 36 km